

Matematika II – přednáška 22

Co bude dneska?

Plošný integrál vektorové funkce (plošný integrál 2. druhu)

Souvislost plošného integrálu vektorové funkce a plošného integrálu skalární funkce.

Tok vektorového pole plochou.

Nějaké příklady.

Tyto slidy jsou na adrese

[http : //marian.fsik.cvut.cz/~neustupa/M2_Neu_prednaska23.pdf](http://marian.fsik.cvut.cz/~neustupa/M2_Neu_prednaska23.pdf)

(pro osobní potřeby).

Shrnutí co bylo minule

Plošný integrál skalární funkce (plošný integrál 1. druhu)

Obsah plochy, mechanické charakteristiky plochy.

Plošný integrál skalární funkce (plošný integrál 1. druhu) - definice

Definice (Plošný integrál skalární funkce na jednoduché hladké ploše.). Nechť σ je jednoduchá hladká plocha v \mathbb{E}_3 a P je její parametrizace, definovaná na množině $B \subset \mathbb{E}_2$. Nechť f je funkce, která je definovaná a omezená na ploše σ . Existuje-li dvojný integrál $\iint_B f(P(u, v)) \|P_u(u, v) \times P_v(u, v)\| du dv$, pak o funkci f říkáme, že je *integrovatelná* na ploše σ . *Plošný integrál* funkce f na ploše σ pak označujeme $\iint_{\sigma} f dp$ a definujeme jej rovnicí

$$\iint_{\sigma} f dp = \iint_B f(P(u, v)) \|P_u(u, v) \times P_v(u, v)\| du dv.$$

Výpočet integrálu vpravo ukážeme na příkladech.

Pozn.: Výroky “funkce f je integrovatelná na ploše σ ” a “plošný integrál f na σ existuje” mají stejný význam (jsou ekvivalentní).

Pozn.: Pro označení plošného integrálu též často objevuje dS nebo $d\sigma$ místo dp .

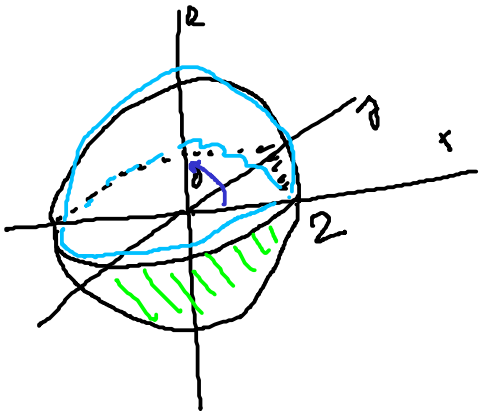
P_r:

$\iint_G (x^2 + y^2) dp = ?$; $G = \{x^2 + y^2 + z^2 = 4\}$... kulova' plocha

$G = G_1 + G_2$

$G_1 = \{X \in G \mid z \geq 0\}$

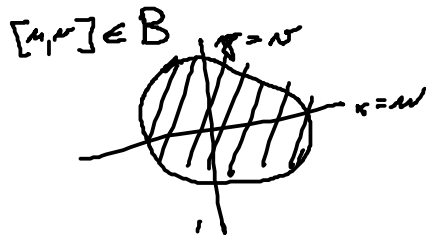
$G_2 = \{X \in G \mid z < 0\}$



$z^2 = 4 - x^2 - y^2 \Rightarrow z = \pm \sqrt{4 - x^2 - y^2}$

P₁: ① $P(u, v)$:

$x = u$
 $y = v$
 $z = \pm \sqrt{4 - u^2 - v^2}$



nerovňame sa transf. do polárnych súradníc

② $P(\vartheta, \varphi)$:

$x = 2 \cos \vartheta \cos \varphi$
 $y = 2 \cos \vartheta \sin \varphi$
 $z = 2 \sin \vartheta$

B:
 $\varphi \in \langle 0, 2\pi \rangle$
 $\vartheta \in \langle 0, \pi/2 \rangle$



$$P_{\sigma} = (2\cos\varphi (-\sin\sigma), 2\sin\varphi (-\sin\sigma), 2\cos\sigma) - 2\cos\varphi \sin\sigma$$

$$P_{\varphi} = (2\cos\sigma (-\sin\varphi), 2\cos\sigma \cos\varphi, 0) - 2\cos\sigma \sin\varphi$$

$$P_{\sigma} \times P_{\varphi} = (-4\cos^2\sigma \cos\varphi, -4\cos^2\sigma \sin\varphi, 4\cos^2\varphi \underbrace{(-\sin\sigma \cos\sigma)} + 4\sin^2\varphi \underbrace{(-\sin\sigma \cos\sigma)})$$

$$= (-4\cos^2\sigma \cos\varphi, -4\cos^2\sigma \sin\varphi, -4\sin\sigma \cos\sigma)$$

$$\|P_{\sigma} \times P_{\varphi}\| = \sqrt{16\cos^4\sigma \cos^2\varphi + 16\cos^4\sigma \sin^2\varphi + 16\sin^2\sigma \cos^2\sigma}$$

$$= \sqrt{16\cos^4\sigma (\cos^2\varphi + \sin^2\varphi) + 16\sin^2\sigma \cos^2\sigma}$$

$$= \sqrt{16\cos^4\sigma + 16\sin^2\sigma \cos^2\sigma}$$

$$= \sqrt{16\cos^2\sigma (\cos^2\sigma + \sin^2\sigma)}$$

$$= \underline{\underline{4\cos\sigma}}$$

$$\begin{aligned}
 \iint_{G_1} x^2 + y^2 \, d\rho &= \int_0^{2\pi} \int_0^{\pi/2} \underbrace{\left((2\cos\vartheta \cos\varphi)^2 + (2\cos\vartheta \sin\varphi)^2 \right)}_{4\cos^2\vartheta (\cos^2\varphi + \sin^2\varphi)} \cdot \frac{4\cos\vartheta}{1} \, d\vartheta \, d\varphi \\
 &= \int_0^{2\pi} \int_0^{\pi/2} 4\cos^2\vartheta \cdot 4\cos\vartheta \, d\vartheta \, d\varphi = \\
 &= 16 \int_0^{2\pi} 1 \, d\varphi \cdot \int_0^{\pi/2} \cos^3\vartheta \, d\vartheta = 16 \cdot 2\pi \int_0^{\pi/2} \cos\vartheta (1 - \sin^2\vartheta) \, d\vartheta = \\
 &\quad \left[\begin{array}{l} \sin\vartheta = t \\ \cos\vartheta \, d\vartheta = dt \\ \pi/2 \rightarrow 1 \\ 0 \rightarrow 0 \end{array} \right] = 16 \cdot 2\pi \cdot \int_0^1 (1 - t^2) \, dt = 32\pi \left[t - \frac{t^3}{3} \right]_0^1 \\
 &= 32\pi \cdot \frac{2}{3} = \underline{\underline{64\pi/3}}
 \end{aligned}$$

$$\iint_G x^2 + y^2 \, d\rho = 2 \iint_{G_1} x^2 + y^2 \, d\rho = \underline{\underline{128\pi/3}} \quad \text{Lu}$$

Znalost ploch a jejich parametrizace

- (I) {
- ① rovina (část)
 - ② paraboloid
 - ③ pl. kuželová
 - ④ pl. kulová
 - ⑤ pl. válcová
- } (II)

Typ I: parametrizace
"Univerzální"

$$\begin{aligned}x &= x \\ y &= y \\ z &= g(x, y) \\ (x, y) &\in B\end{aligned}$$

ukázat
v prostoru

B je průmět plochy do roviny $z=0$

$$\text{Pak } \vec{r}_x \times \vec{r}_y = \left(-\frac{\partial g}{\partial x}, -\frac{\partial g}{\partial y}, 1 \right)$$

kolmý vektor

Typ II param. pomocí cylin. souřadnic

(III) pl. kulovou lze též pomocí
sférických souřadnic.

IV Plocha zadana parametrizaci

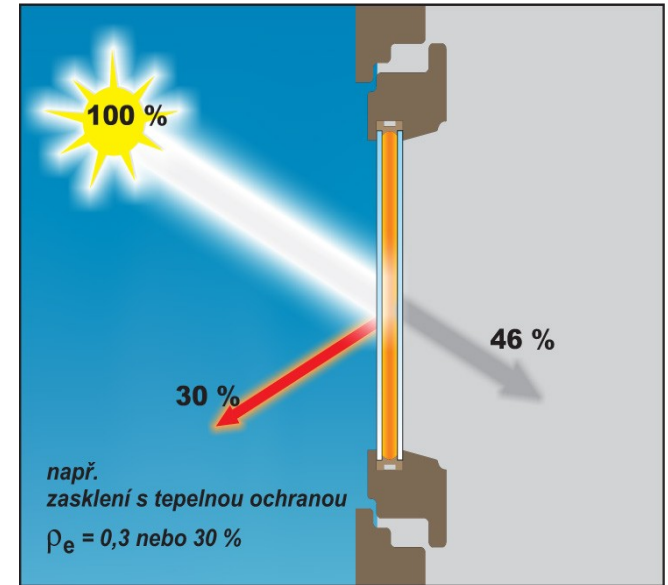
Plošný integrál vektorové funkce (plošný integrál 2. druhu) - motivace

Na tabuli.

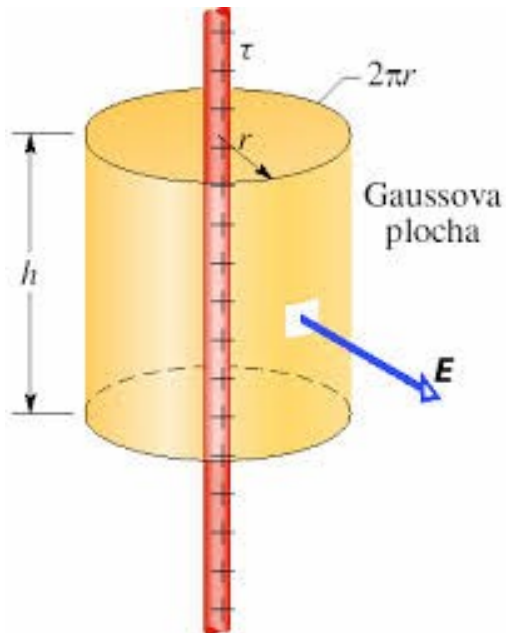
Plošný integrál z vektorové f-ce



Tok vody

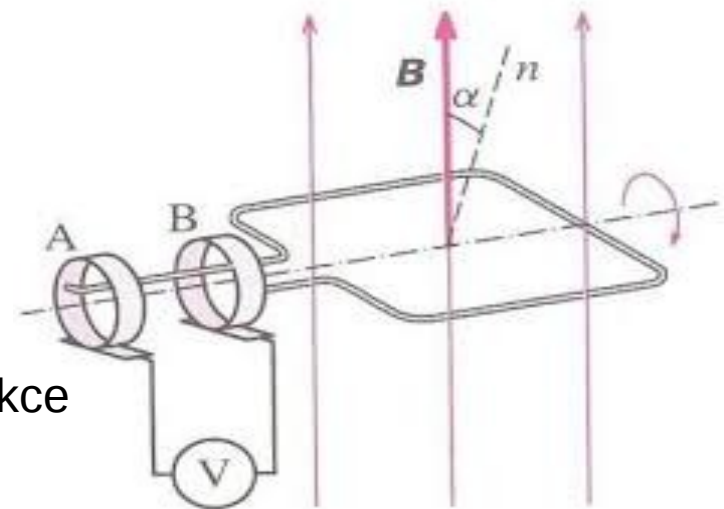


Tepelný tok



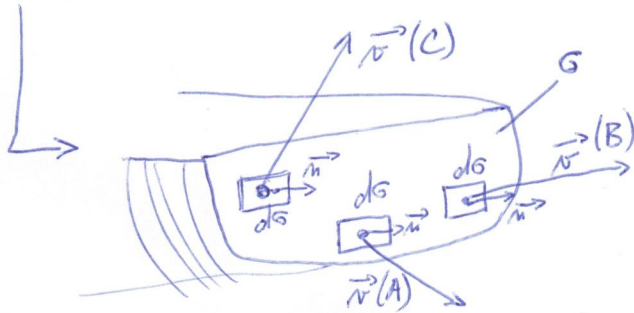
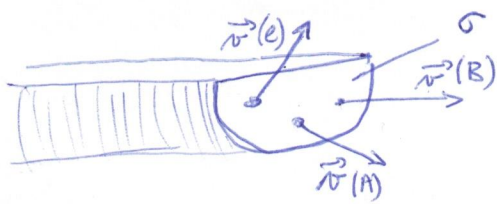
Gaussův zákon
o elektrické intenzitě

Faradayův zákon
elektromagnetické indukce



Chceme spočítat proud vody skrz roztahou plochu.

A představme si hodně rozvířený proud vody popsaný vekt. polem rychlosti \vec{v} .



Pak celkový tok vody skrz plochu S a orientaci danou \vec{n} spočítám vysčítáním přes "malé elementy" plochy dS .

Na elementu dS ale potřebuji zjistit, co tře ve směru normály (tj. sou/dovnití dle orientace S), tj.:

$$dQ = \vec{v}(x, y, z) \cdot \vec{n}(x, y, z) dS$$

← udělám přímět \vec{v} do směru \vec{n}

↑ (proud označme Q)

Celkem dostanu

$$Q = \iint_S dQ = \iint_S \vec{v}(x, y, z) \cdot \vec{n}(x, y, z) dS \left(= \iint_S \vec{f}(x, y, z) \cdot d\vec{p} \right)$$

jiný zápis a f a \vec{f} místo \vec{v}

Plošný integrál vektorové funkce (plošný integrál 2. druhu) - definice

Definice (Plošný integrál vektorové funkce.). Nechť σ je jednoduchá po částech hladká plocha v \mathbb{E}_3 a \mathbf{f} je vektorová funkce, která je definovaná a omezená na ploše σ . Říkáme, že vektorová funkce \mathbf{f} je *integrovatelná* na ploše σ , je-li skalární funkce $\mathbf{f} \cdot \mathbf{n}$ integrovatelná na σ . Integrál $\iint_{\sigma} \mathbf{f} \cdot \mathbf{n} \, dp$ nazýváme *plošný integrál vektorové funkce* \mathbf{f} na ploše σ a označujeme jej kratším způsobem $\iint_{\sigma} \mathbf{f} \cdot d\mathbf{p}$.

Plošný integrál vektorové funkce (= vektorového pole) \mathbf{f} vyjadřuje *tok vektorového pole* \mathbf{f} uvažovanou plochou. Tento integrál se často nazývá *plošný integrál 2. druhu*.

Souvislost plošného integrálu vektorové funkce a pl. integrálu skal. funkce.

Poznámka: Z definice plošného integrálu vektorové funkce \mathbf{f} je patrné, že tento integrál je vlastně plošným integrálem skalární funkce $\mathbf{f} \cdot \mathbf{n}$, což je průmět vektorové funkce \mathbf{f} do směru kolmého k ploše σ . Plošný integrál vektorové funkce lze tudíž vyjádřit formulí

$$\iint_{\sigma} \mathbf{f} \cdot d\mathbf{p} = \iint_{\sigma} (\mathbf{f} \cdot \mathbf{n}) dp.$$

Souvislost plošného integrálu vektorové funkce a pl. integrálu skal. funkce.

Poznámka: Z definice plošného integrálu vektorové funkce \mathbf{f} je patrné, že tento integrál je vlastně plošným integrálem skalární funkce $\mathbf{f} \cdot \mathbf{n}$, což je průmět vektorové funkce \mathbf{f} do směru kolmého k ploše σ . Plošný integrál vektorové funkce lze tudíž vyjádřit formulí

$$\iint_{\sigma} \mathbf{f} \cdot d\mathbf{p} = \iint_{\sigma} (\mathbf{f} \cdot \mathbf{n}) dp.$$

Poznámka: Normálový vektor \mathbf{n} nemusí existovat v těch bodech jednoduché po částech hladké plochy σ , ve kterých se stýkají jednotlivé hladké plochy, ze kterých je po částech hladká plocha σ složena. Takové body tvoří nejvýše konečně mnoho jednoduchých po částech hladkých křivek a existence ani hodnota plošného integrálu na chování integrované funkce (pokud tato je omezená) na konečně mnoha křivkách nezávisí.

Zápisy plošného integrálu

Buď $\mathbf{f} = (U, V, W)$ pak tyto integrály

Předpokládejme, že vektorová funkce \mathbf{f} má souřadnicové funkce U , V a W . Pak integrály

$$\iint_{\sigma} \mathbf{f} \cdot d\mathbf{p}, \quad \iint_{\sigma} \mathbf{f} \cdot \mathbf{n} dp, \quad \iint_{\sigma} (U, V, W) \cdot d\mathbf{p}, \quad \iint_{\sigma} (U, V, W) \cdot \mathbf{n} dp,$$
$$\iint_{\sigma} (U\mathbf{i} + V\mathbf{j} + W\mathbf{k}) \cdot d\mathbf{p}, \quad \iint_{\sigma} (U\mathbf{i} + V\mathbf{j} + W\mathbf{k}) \cdot \mathbf{n} dp$$

mají stejný význam.

Plošný integrál vektorové funkce - základní vlastnosti

Protože je plošný integrál vekt. fce \mathbf{f} definován jako plošný integrál skal. fce $(\mathbf{f} \cdot \mathbf{n})$ jsou základní vlastnosti obou integrálů stejné.

S jedním zásadním rozdílem: **Plošný integrál vektorové funkce závisí na orientaci plochy!**

Plošný integrál vektorové funkce - základní vlastnosti

Protože je plošný integrál vekt. fce \mathbf{f} definován jako plošný integrál skal. fce $(\mathbf{f} \cdot \mathbf{n})$ jsou základní vlastnosti obou integrálů stejné.

S jedním zásadním rozdílem: **Plošný integrál vektorové funkce závisí na orientaci plochy!**

Věta. *Je-li vektorová funkce \mathbf{f} integrovatelná na ploše σ , pak je integrovatelná i na ploše $-\sigma$ a*

$$\iint_{-\sigma} \mathbf{f} \cdot d\mathbf{p} = - \iint_{\sigma} \mathbf{f} \cdot d\mathbf{p}.$$

Toto tvrzení vyplývá z definice. Vektor \mathbf{n} v $\iint_{\sigma} \mathbf{f} \cdot \mathbf{n} dp$ je normálový vektor, který ukazuje směrem jímž je plocha orientována. Změna orientace vede ke změně znaménka normálového vektoru.

Memotechnická pomůcka

plošný int. ze skalární f-ee $(\iint_S f \, d\sigma)$ má fyz. význam ^{nají.} hmotnosti desky,

tj. nezávisí na orientaci desky

plošný int. z vektorové f-ee $(\iint_S \vec{f} \cdot d\vec{\sigma})$ má fyz. význam toku daného pole

skrz plochu, mají tok vody skrz říši hadice

a je velký rozdíl, jestli voda obíhá nebo vytéká!

Věta:

Nechť je zadané spojitě vekt. pole $\mathbf{f}(x,y,z)$ na jednoduché hladké ploše σ a necht' je $P(u,v)$ její souhlasně orientovaná parametrizace.
Potom platí:

$$\begin{aligned} \iint_{\sigma} \mathbf{f} \cdot d\mathbf{p} &= \iint_{\sigma} \mathbf{f} \cdot \mathbf{n} \, dp \\ &= \iint_B \mathbf{f}(P(u,v)) \cdot \frac{P_u(u,v) \times P_v(u,v)}{\|P_u(u,v) \times P_v(u,v)\|} \|P_u(u,v) \times P_v(u,v)\| \, du \, dv, \end{aligned}$$

$$(IV.4.2) \quad \iint_{\sigma} \mathbf{f} \cdot d\mathbf{p} = \iint_B \mathbf{f}(P(u,v)) \cdot (P_u(u,v) \times P_v(u,v)) \, du \, dv.$$

Výpočet plošného integrálu vektorové funkce

Na tabuli. $\underline{P_{\vec{r}}}: \iint_{S_1} (0, 0, z) \cdot \vec{n} dS$; $S_1 =$ horní polovina kulové plochy orientované \vec{n}, \vec{r} $\vec{n}[0, 0, z] = [0, 0, 1]$.

$P(r, \varphi)$ viz předchozí pří.

$$\begin{aligned} x &= 2 \cos \sigma \cos \varphi & \sigma &\in \langle 0, \pi/2 \rangle \\ y &= 2 \cos \sigma \sin \varphi & \varphi &\in \langle 0, 2\pi \rangle \\ \underline{z} &= \underline{2 \sin \sigma} \end{aligned}$$

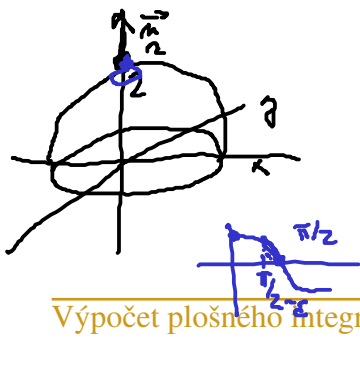
$$\underline{P_{\sigma} \times P_{\varphi}} = (-4 \cos^2 \sigma \cos \varphi, -4 \cos^2 \sigma \sin \varphi, -4 \sin \sigma \cos \sigma)$$

nesoulad orientace $P(\sigma, \varphi)$.

$$P(\sigma = \pi/2, \varphi \text{ lib.}) = [0, 0, z]$$

$$P_{\sigma} \times P_{\varphi}(\sigma = \pi/2, \varphi \text{ lib.}) = (0, 0, 0) \text{ problém s def.}$$

$$P_{\sigma} \times P_{\varphi}(\sigma \rightarrow \pi/2, \varphi \text{ lib.}) = (x, x) \ominus \rightarrow \text{přodupl. koncový}$$



PF:

$\vec{f} = (0, 0, 2)$

recall. orient. for. σ_1

$$\iint_{\sigma_1} (0, 0, 2) \cdot \vec{n} \, d\sigma = \int_0^{2\pi} \int_0^{\pi/2} (0, 0, 2 \sin \nu) \cdot (-4 \cos^2 \nu \cos \phi, -4 \cos^2 \nu \sin \phi, -4 \sin \nu \cos \nu) \, d\phi \, d\nu$$

$$= + \int_0^{2\pi} \int_0^{\pi/2} (0 + 0 + 2 \sin \nu \cdot (+4 \sin \nu \cos \nu)) \, d\nu \, d\phi =$$

$$= 8 \int_0^{2\pi} 1 \, d\phi \int_0^{\pi/2} \sin^2 \nu \cos \nu \, d\nu = \left[\begin{array}{l} t = \sin \nu \\ dt = \cos \nu \, d\nu \\ \pi/2 \rightarrow 1 \\ 0 \rightarrow 0 \end{array} \right]$$

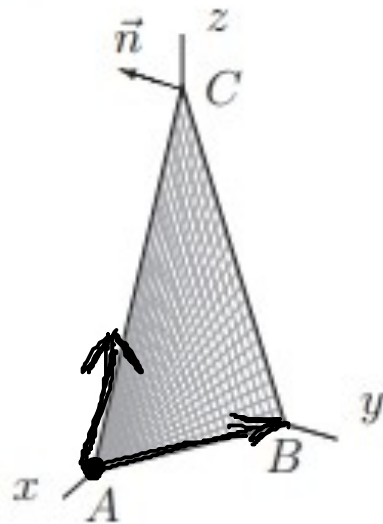
$$8 \cdot 2\pi \cdot \int_0^1 t^2 \, dt = 16\pi \cdot \left[\frac{t^3}{3} \right]_0^1 = \frac{16\pi}{3}$$

Určete tok Φ vektorového pole \vec{f} plochou $Q \subset E_3$ orientovanou normálou \vec{n} :

Příklad 650. $\vec{f} = (x, y - z, 2z)$, Q je trojúhelník o vrcholech A, B, C , kde
 $A = [3, 0, 0]$, $B = [0, 2, 0]$, $C = [0, 0, 6]$, $\vec{n} \cdot \vec{i} < 0$.

Řešení : Tok vypočteme tentokrát podle definice, tj. převedením na integrál skalární funkce.

Př.: 650 (e-Sbirka)



σ : trojúhelník s vrcholy $A = [3, 0, 0]$
 $B = [0, 2, 0]$
 $C = [0, 0, 6]$

→ parametrizace? → více variant, jedna z nich viz e-Sbirka (n-e rovinu)

→ parametrický popis roviny pomocí 2 směr. vektorů:

$$\vec{s}_1 = \vec{AB} = (-3, 2, 0)$$

$$\vec{s}_2 = \vec{AC} = (-3, 0, 6)$$

Pak $P(m, r) = A + m\vec{s}_1 + r\vec{s}_2$

neboli po složkách:

$P(m, r)$:

$$x = 3 + m(-3) + r(-3)$$

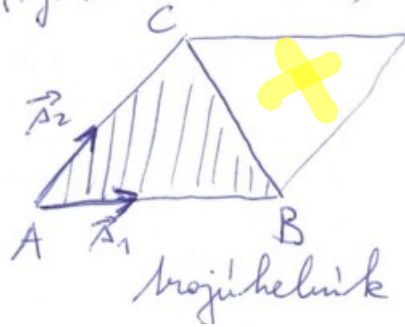
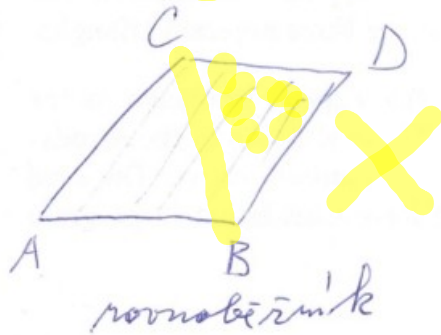
$$y = 0 + m \cdot 2 + 0 \cdot r$$

$$z = 0 + 0 \cdot m + 6 \cdot r$$

Množina B:

tedyby $u \in \langle 0, 1 \rangle$
 $v \in \langle 0, 1 \rangle \Rightarrow$ proto $u \in \langle 0, 1 \rangle$
 ~~$v \in \langle 0, 1 \rangle$~~ $0 \leq v \leq 1 - u$

(tj. součet $u+v=1$)



$$P_u = (-3, 2, 0) = \vec{A}_1$$

$$P_v = (-3, 0, 6) = \vec{A}_2$$

$$P_u \times P_v = \begin{vmatrix} \vec{i} & \vec{j} & \vec{k} \\ -3 & 2 & 0 \\ -3 & 0 & 6 \end{vmatrix} = \vec{i}(12) - \vec{j}(-18) + \vec{k}(6) \\ = (12, 18, 6)$$

$$\text{Je } \vec{P_u \times P_v} \cdot \vec{i} < 0 \text{ ?}$$

$$(12, 18, 6) \cdot (1, 0, 0) = 12 \text{ není } < 0 \Rightarrow \text{nesouhlasná orientace}$$

$$\underline{f} = (x, y-z, 2z)$$

$$\iint_S \underline{f} \cdot d\underline{P} = - \iint_B \underline{f} \cdot \underline{P}_u \times \underline{P}_v \, du \, dv = - \int_0^1 \int_0^{1-u} (3-3u-3v, 2u-6v, 12v) \cdot (12, 18, 6) \, dv \, du$$

$$= - \int_0^1 \int_0^{1-u} 36 - 36u - 36v + 36u - 6 \cdot 18v + 6 \cdot 12v \, dv \, du =$$

$$= -6 \int_0^1 \int_0^{1-u} 6 + v \underbrace{(6 - 18 + 12)}_{-12} \, dv \, du$$

$$= -6 \int_0^1 \left(\int_0^{1-u} 6(1-2v) \, dv \right) \, du =$$

$$= -36 \int_0^1 \left[v - \frac{v^2}{1} \right]_0^{1-u} \, du = -36 \int_0^1 (1-u) - (1+u^2-2u) \, du =$$

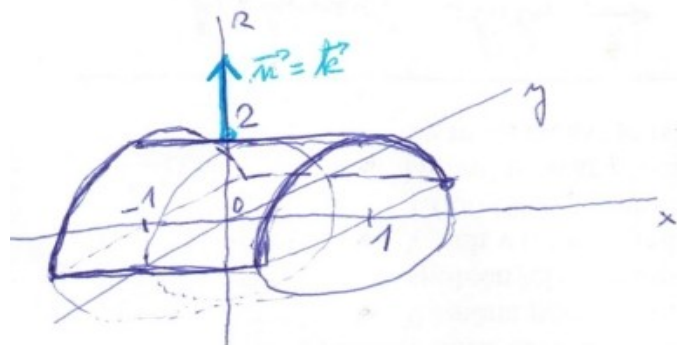
$$= -36 \int_0^1 -u^2 + u \, du = -36 \left[-\frac{u^3}{3} + \frac{u^2}{2} \right]_0^1 = -36 \left(-\frac{1}{3} + \frac{1}{2} \right) = \underline{\underline{-6}}$$

Tak je -6 (jednotka).

IV.4.8. Příklad. Vypočítejme tok vektorového pole $\mathbf{f}(x, y, z) = yz\mathbf{j} + z^2\mathbf{k}$ plochou σ , která je částí poloviny válcové plochy $y^2 + z^2 = 4$, $z \geq 0$, odříznutou rovinami $x = -1$ a $x = 1$. Plocha σ je orientovaná normálovým vektorem \mathbf{n} , který má v bodě $[0, 0, 2]$ tvar $\mathbf{n} = \mathbf{k}$.

$G: y^2 + z^2 = 4, z \geq 0, -1 \leq x \leq 1 \rightarrow$ část válcové plochy

parametrizace (podobná polárním souřadnicím s pevným poloměrem)



$P(u, v):$

$$x = u \quad \rightarrow u \in \langle -1, 1 \rangle$$

$$y = 2 \cos v$$

$$z = 2 \sin v \quad \rightarrow v \in \langle 0, \pi \rangle$$

$$\hookrightarrow z = 2 \sin v \geq 0$$

$$P_u = (1, 0, 0)$$

$$P_v = (0, -2 \sin v, 2 \cos v)$$

$$P_u \times P_v = \begin{vmatrix} \vec{i} & \vec{j} & \vec{k} \\ 1 & 0 & 0 \\ 0 & -2 \sin v & 2 \cos v \end{vmatrix} = \vec{i}(0) - \vec{j}(2 \cos v) + \vec{k}(-2 \sin v) = \underline{\underline{(0, -2 \cos v, -2 \sin v)}}.$$

Bodlu $A = [0, 0, 2]$ odpovídají hodnoty parametrů u, v :

$$\left. \begin{aligned} x = 0 &= u \checkmark \\ y = 0 &= 2 \cos v \\ z = 2 &= 2 \sin v \end{aligned} \right\} \Rightarrow v = \pi/2 \checkmark$$

Pak $P_u \times P_v$ (~~$u=0$~~ , $v = \pi/2$) = $(0, \text{~~0~~, } -2 \cos \pi/2, -2 \sin \pi/2)$
= $(0, 0, -2)$ in raději

kdy $P_u \times P_v$ je v bodě A opačně orientovaný než $\vec{n} = (0, 0, 1)$,
proto je orientace param. nesouhlasná!

vektorového pole $\mathbf{f}(x, y, z) = yz\mathbf{j} + z^2\mathbf{k}$

$$\begin{aligned}\iint_{\sigma} \vec{f} \cdot d\vec{p} &= \iint_{\sigma} (0, ye, z^2) \cdot d\vec{p} = - \iint_B \vec{f}(P(u, v)) \cdot \vec{P}_u \times \vec{P}_v \, du \, dv = \\ &= - \int_{-1}^1 \int_0^{\pi} (0, 2\cos v \cdot 2\sin v, 4\sin^2 v) \cdot (0, -2\cos v, -2\sin v) \, dv \, du = \\ &= - \int_{-1}^1 \int_0^{\pi} -8\cos^2 v \sin v - 8\sin^3 v \, dv \, du = \\ &= +8 \int_{-1}^1 \left(\int_0^{\pi} \sin v (\cos^2 v + \sin^2 v) \, dv \right) du = \\ &= +8 \int_{-1}^1 [-\cos v]_0^{\pi} \, du = 8 \left[\frac{(1+1) \cdot \cancel{+}}{2} \right]_{-1}^1 = \underline{\underline{32}}\end{aligned}$$

Tak vekt. pole radiannou plochou je rovnou +32 [jednotek].

Určete tok Φ vektorového pole \vec{f} plochou $Q \subset E_3$ orientovanou normálou \vec{n} :

Příklad 653. $\vec{f} = (-y, x, z)$, $Q = \{[x, y, z] \in E_3; z = 4 - \sqrt{x^2 + y^2}, 1 \leq z \leq 3\}$,
normálový vektor $\vec{n} = (n_1, n_2, n_3)$ má $n_3 > 0$.

PF: 653 (c-šluka)

$0: 1 \leq z \leq 3, z = 4 - \sqrt{x^2 + y^2} \rightarrow (z-4) = -\sqrt{x^2 + y^2} \rightarrow (z-4)^2 - x^2 - y^2 = 0$
kuželová plocha

$1 \leq 4 - \sqrt{x^2 + y^2} \leq 3$

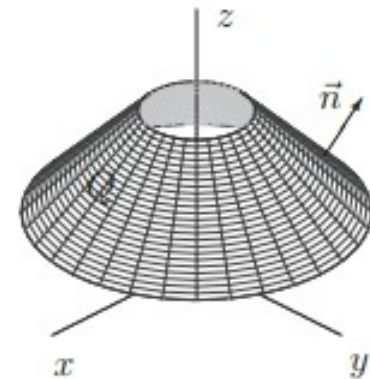
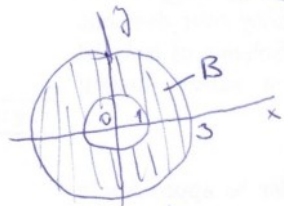
$-3 \leq -\sqrt{\quad} \leq -1$

$3 \geq \sqrt{x^2 + y^2} \geq 1$

\Rightarrow dva přes $P(u, v):$
 $x = u$
 $y = v$
 $z = 4 - \sqrt{u^2 + v^2}$ $B = \curvearrowright$

nebo lépe pomocí $P(u, \varphi):$ (abych lépe popsal B pomocí polárních souřadnic)

$x = u \cos \varphi$
 $y = u \sin \varphi$
 $z = 4 - \sqrt{u^2 \cos^2 \varphi + u^2 \sin^2 \varphi} = 4 - u$
 $u \in \langle 1, 3 \rangle$
 $\varphi \in \langle 0, 2\pi \rangle$



Pak $P_u = \frac{\partial}{\partial u} (u \cos \varphi, u \sin \varphi, 4 - u) = (\cos \varphi, \sin \varphi, -1)$

$P_\varphi = \frac{\partial}{\partial \varphi} (\quad || \quad) = (-u \sin \varphi, u \cos \varphi, 0)$

Pak $P_r = \frac{\partial \vec{r}}{\partial r} (r \cos \varphi, r \sin \varphi, 4-r) = (\cos \varphi, \sin \varphi, -1)$

$$P_\varphi = \frac{\partial}{\partial \varphi} (\quad \parallel \quad) = (-r \sin \varphi, r \cos \varphi, 0)$$

$$P_r \times P_\varphi = \begin{vmatrix} \vec{i} & \vec{j} & \vec{k} \\ \cos \varphi & \sin \varphi & -1 \\ -r \sin \varphi & r \cos \varphi & 0 \end{vmatrix} = \vec{i} (+r \cos \varphi) - \vec{j} (-r \sin \varphi) + \vec{k} (r \cos^2 \varphi + r \sin^2 \varphi) = \underline{\underline{(+r \cos \varphi, +r \sin \varphi, r)}}$$

Ma' $P_r \times P_\varphi$ triti slozku klachnou?

Ans, ve vseh bodach plochy je $r > 0$.

↳ souhlasna' orientace $P(r, \varphi)$.

$$\vec{f} = (-y, x, z),$$

$$\iint_{\sigma} \vec{f} \cdot d\vec{p} = + \iint_{\mathcal{B}} \vec{f} \cdot \vec{P}_r \times \vec{P}_\varphi \, dp =$$

$$= + \int_1^3 \int_0^{2\pi} (-r \sin \varphi, r \cos \varphi, 4-r) \cdot (r \cos \varphi, r \sin \varphi, r) \, d\varphi \, dr$$

$$= \int_1^3 \int_0^{2\pi} \cancel{+r^2 \sin \varphi \cos \varphi} + \cancel{r^2 \cos \varphi \sin \varphi} + 4r - r^2 \, d\varphi \, dr =$$

$$= 2\pi \int_1^3 4r - r^2 \, dr = 2\pi \left[4 \frac{r^2}{2} - \frac{r^3}{3} \right]_1^3 = 2\pi \left(2 \cdot 9 - 9 - \left(2 - \frac{1}{3} \right) \right) =$$

$$= 2\pi \left(7 + \frac{1}{3} \right) = \underline{\underline{\frac{44\pi}{3}}}$$